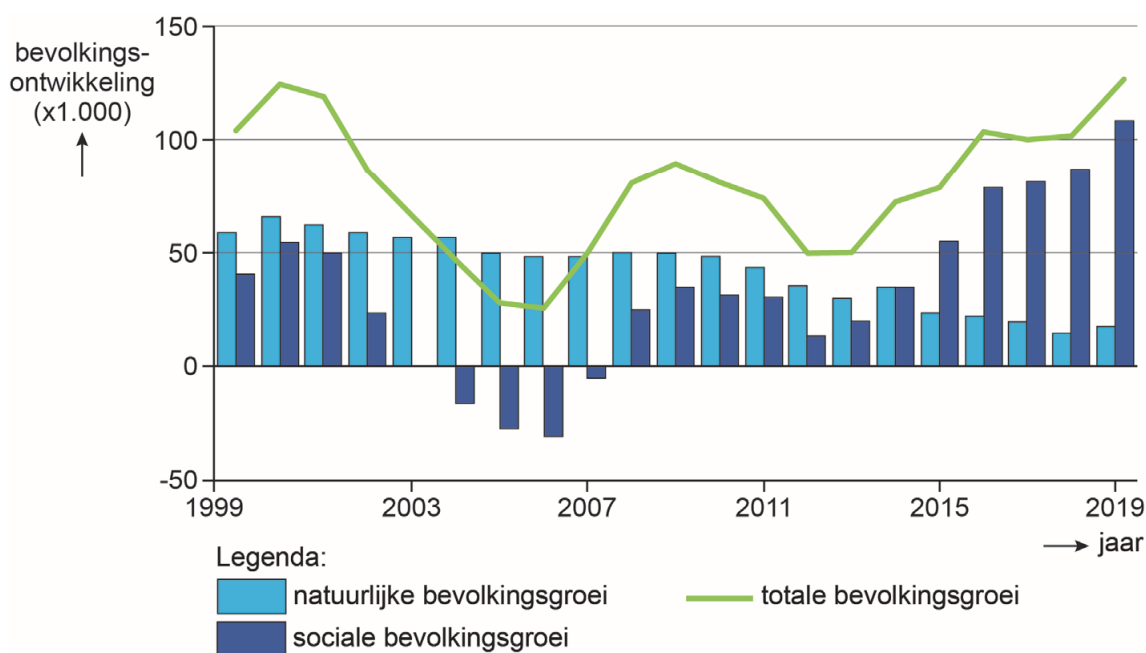


bron 31

Bevolkingsontwikkeling in Nederland, 1999 – 2019



2p 31 Bekijk bron 31.

Over bron 31 worden drie uitspraken gedaan.

Uitspraak 1: in 2006 had Nederland een vertrekoverschot.

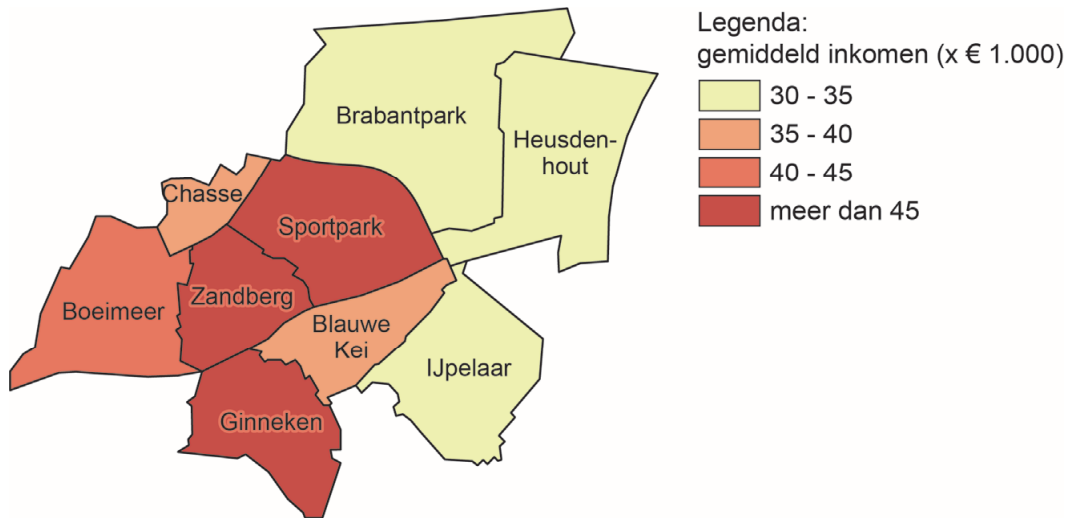
Uitspraak 2: sinds 2015 neemt de bevolking af door een sterfteoverschot.

Uitspraak 3: zowel in 1999 als in 2019 lag het migratiesaldo tussen 50.000 en 150.000.

→ Neem de cijfers 1, 2 en 3 van de uitspraken over op het antwoordblad en zet erachter of de uitspraak juist of onjuist is.

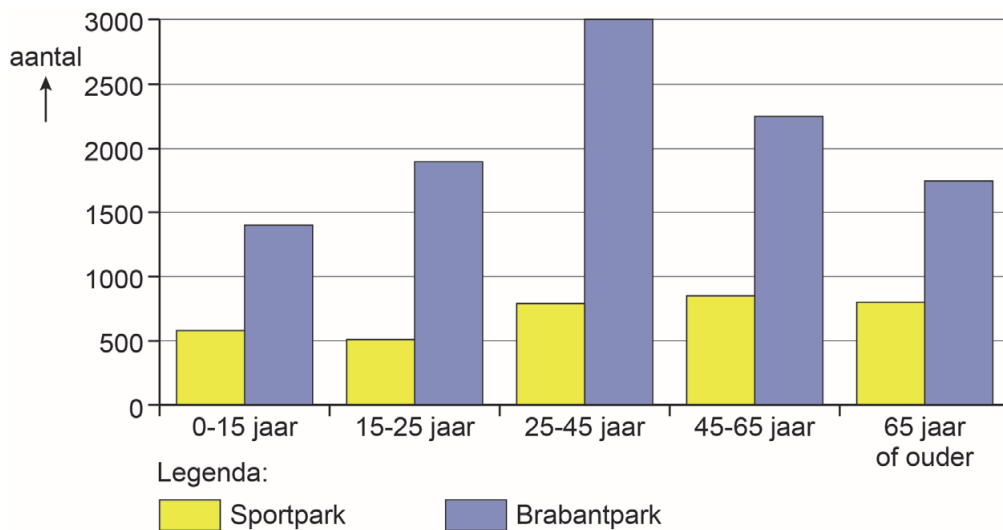
bron 32

Gemiddeld inkomen per inkomensontvanger in de wijken van Breda ten oosten van het centrum, 2017



bron 33

Inwoners naar leeftijd van de buurten Sportpark en Brabantpark, 2017



1p 32 Bekijk bron 32 en bron 33.

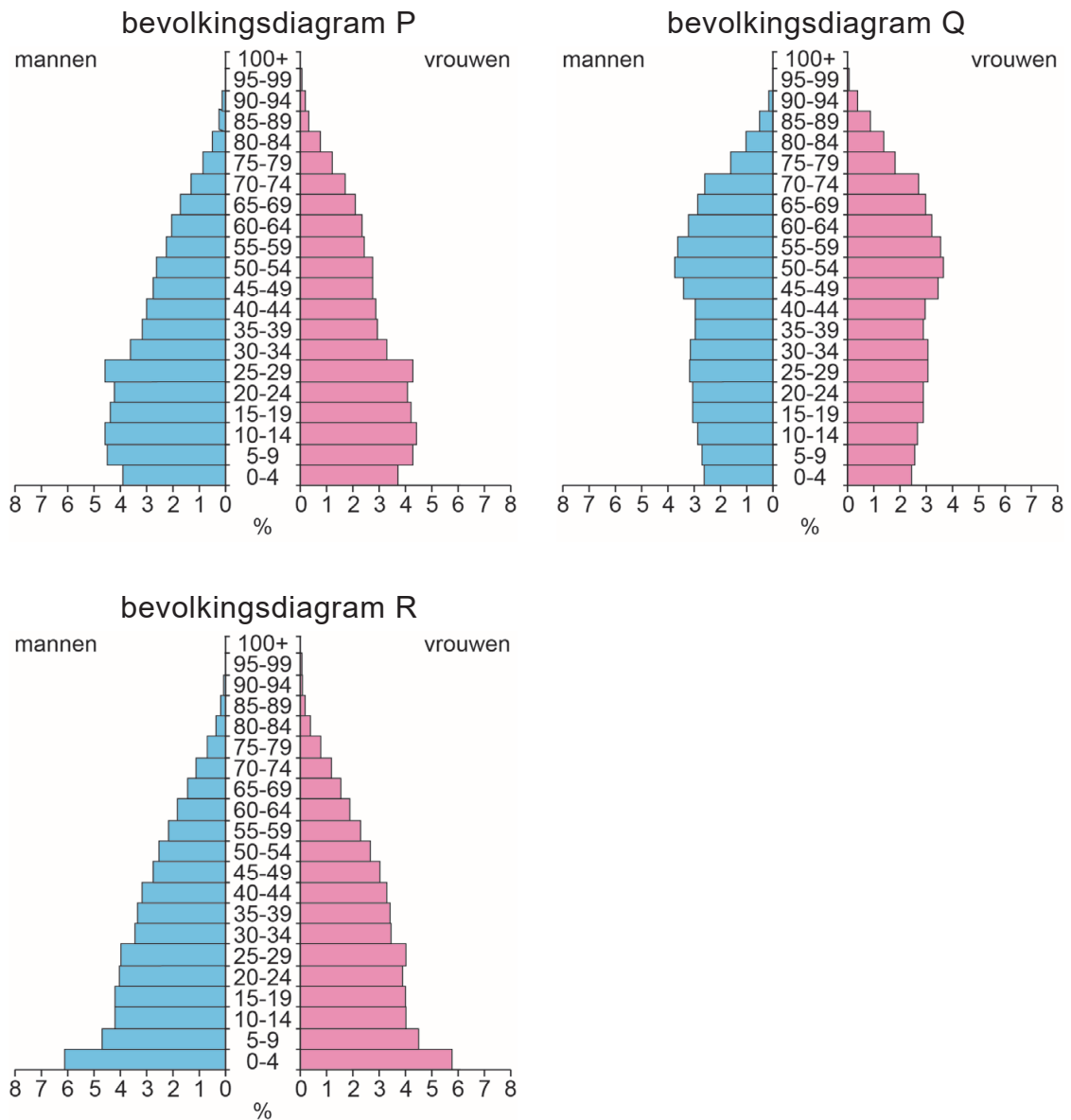
→ Beargumenteer welke bron het duidelijkst de sociaal-economische ongelijkheid tussen Sportpark en Brabantpark laat zien.

Doe het zo:

- Kies eerst **bron 32** of **bron 33**.
- Geef daarna een argument voor je keuze.

bron 34

Drie bevolkingsdiagrammen van Nederland



1p 33 Bekijk bron 34.

In bron 34 staan de bevolkingsdiagrammen van Nederland van 1950, 1975 en 2019 in willekeurige volgorde.

Waar staan de bevolkingsdiagrammen juist bij het jaartal?

	1950	1975	2019
A	bevolkingsdiagram P	bevolkingsdiagram Q	bevolkingsdiagram R
B	bevolkingsdiagram P	bevolkingsdiagram R	bevolkingsdiagram Q
C	bevolkingsdiagram R	bevolkingsdiagram P	bevolkingsdiagram Q
D	bevolkingsdiagram R	bevolkingsdiagram Q	bevolkingsdiagram P

- 1p **34** Regio's aan de randen van Nederland, zoals Noordoost-Groningen en Zuidoost-Drenthe, zijn krimpregio's. In krimpregio's dreigen voorzieningen te verdwijnen.

→ Beredeneer welke voorziening uit deze gebieden verdwijnt.

Doe het zo:

- Kies eerst de voorziening **voetbalvereniging** of **bejaardentehuis**.
- Geef daarna de reden waarom juist deze voorziening verdwijnt.

bron 35

Warenhuis de Bijenkorf

In 2013 ging warenhuis de Bijenkorf (met onder andere een vestiging op de Dam in Amsterdam) op luxe toer. Vijf van de twaalf winkels in Nederland werden gesloten. De overgebleven winkels kregen een veel luxere uitstraling en een veel luxer assortiment. Tussen 2016 en 2019 groeide de omzet van de Bijenkorf elk jaar, zowel in de winkels als online.

bron 36

Tekst met keuzemogelijkheden

De Bijenkorf had met het luxere assortiment als doel om nieuwe klanten aan te trekken. Door de inkoop van duurdere producten veranderde de drempelwaarde ... **1** ... (wel / niet).

Door de sluiting van de winkel in Groningen werd de reikwijdte van Bijenkorkklanten uit Groningen ... **2** ... (groter / kleiner).

Het verzorgingsgebied van de Bijenkorf ... **3** ... (groeide / kromp) door onlineshoppen.

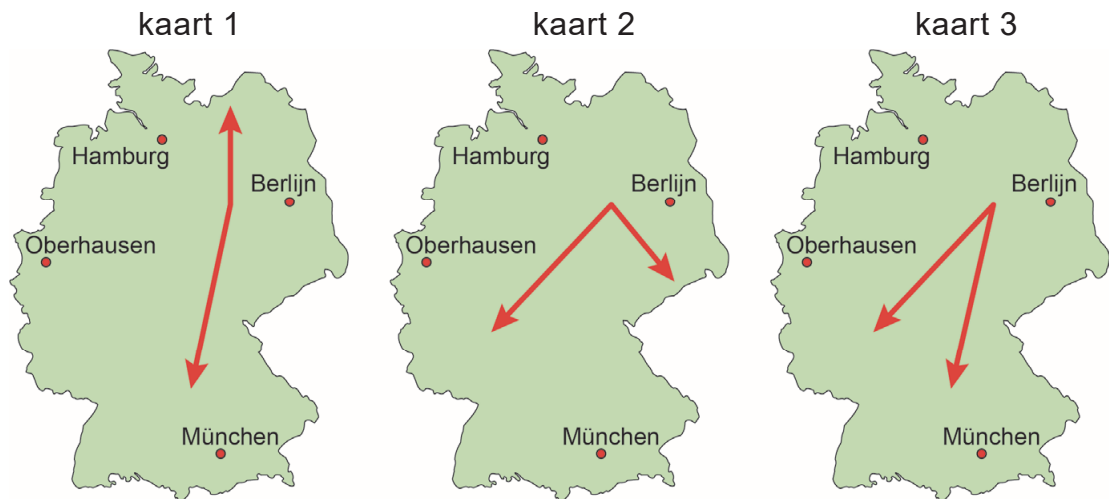
- 2p **35** Lees bron 35 en bron 36.

In bron 36 staat achter de cijfers 1, 2, en 3 een keuzemogelijkheid.

→ Neem de cijfers uit de tekst over op het antwoordblad en zet de juiste keuze erachter.

bron 37

Drie kaarten van Duitsland



1p 36 Bekijk bron 37.

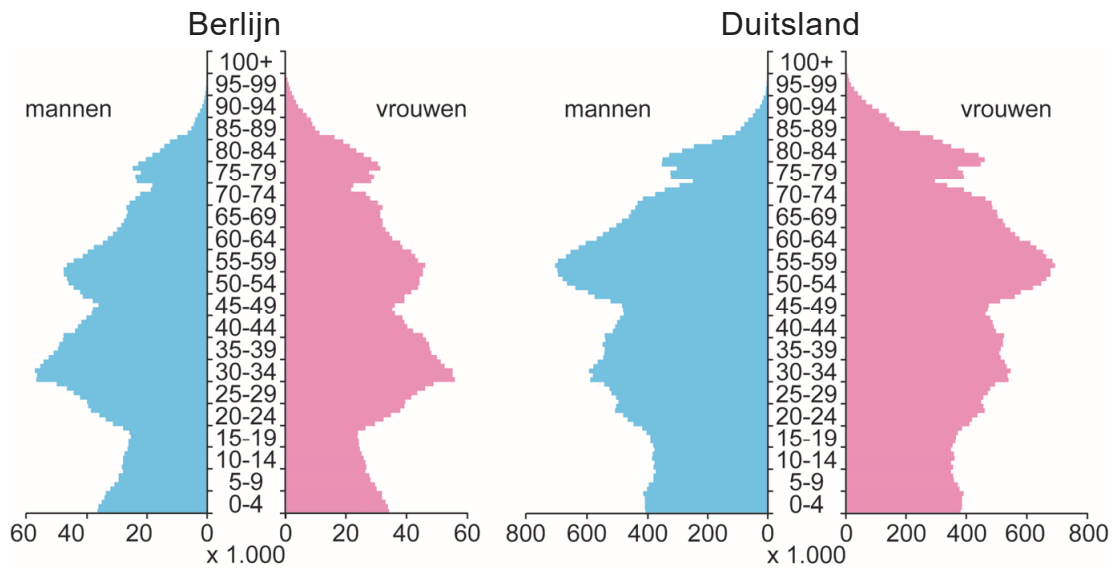
In de kaarten zijn met pijlen de belangrijkste binnenlandse migratiestromen met het oosten van Duitsland als vertrekgebied weergegeven.

Welke kaart geeft de juiste richting van de grootste binnenlandse migratiestromen vanaf 2010 weer?

- A kaart 1
- B kaart 2
- C kaart 3

bron 38

Bevolkingsdiagram van Berlijn en van Duitsland, 2019



1p 37 Bekijk bron 38.

Naar aanleiding van de bevolkingsdiagrammen in bron 38 worden twee uitspraken gedaan.

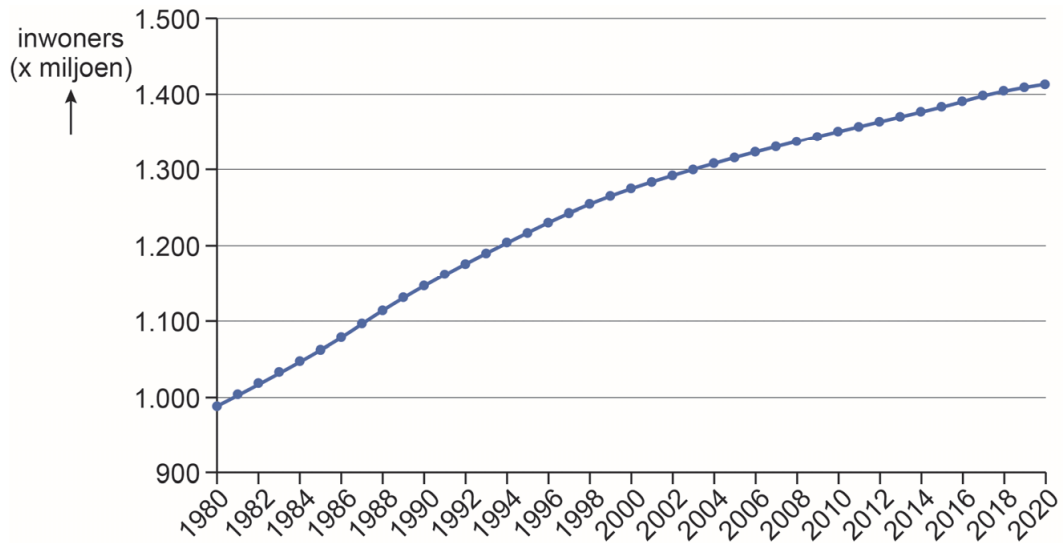
Uitspraak 1: in Berlijn is het percentage mensen tussen de 25 en 45 jaar hoger dan in heel Duitsland.

Uitspraak 2: tussen 2019 en 2040 zal Berlijn meer vergrijzen dan Duitsland als geheel.

→ Neem de cijfers 1 en 2 over op het antwoordblad en zet erachter of de uitspraak juist of onjuist is.

bron 39

Bevolkingsontwikkeling in China, 1980 – 2020



1p 38 Bekijk bron 39.

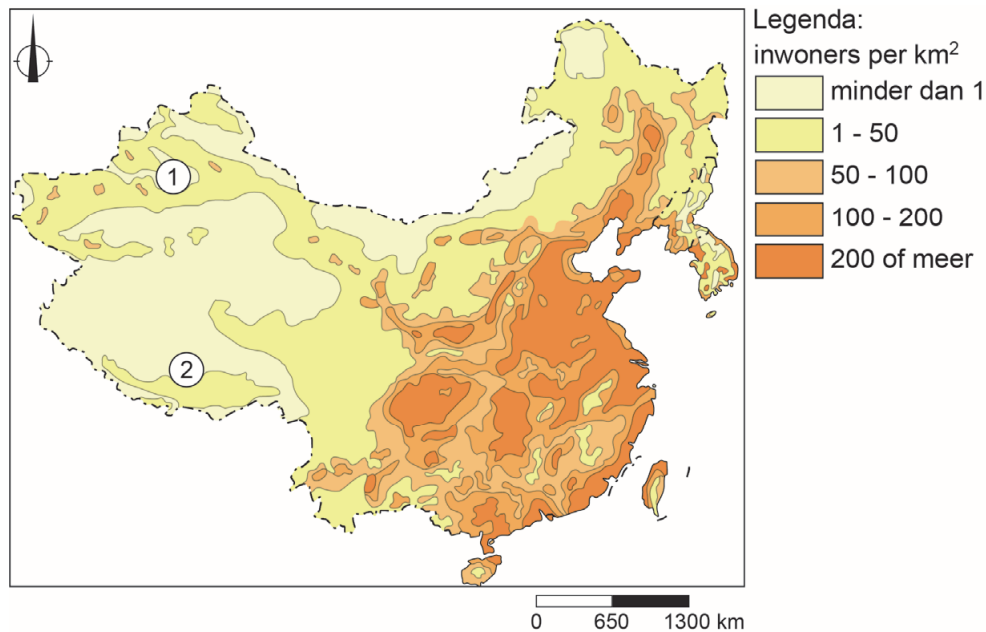
Over de bevolkingsontwikkeling in China worden twee uitspraken gedaan.
Uitspraak 1: in de periode 1980 tot 1990 is de bevolkingsgroei groter dan in de periode 2010 tot 2020.

Uitspraak 2: de bevolkingsgroei in China wordt onder andere veroorzaakt door de toegenomen levensverwachting.

→ Neem de cijfers 1 en 2 van de uitspraken over op het antwoordblad en zet erachter of de uitspraak juist of onjuist is.

bron 40

China, bevolkingsdichtheid



2p 39 Bekijk bron 40.

China heeft een ongelijke bevolkingsverspreiding. Het westen van China is dunbevolkt. In bron 40 zijn twee gebieden in het westen van China aangegeven met de cijfers 1 en 2.

→ Neem de cijfers 1 en 2 uit bron 40 over op het antwoordblad en noteer achter elk cijfer een andere natuurlijke oorzaak voor de lage bevolkingsdichtheid in dat gebied.

bron 41

Krantenartikel

In China doen ze alles voor een hukou, ook trouwen met een wildvreemde.

Steeds vaker betalen Chinezen voor een huwelijk met een vreemde. Soms scheiden ze daarvoor zelfs van hun echte partner. Het doel: het verkrijgen van een nieuwe hukou.

1p 40 Lees bron 41.

Over bron 41 worden twee uitspraken gedaan.

Uitspraak 1: stadsbewoners zonder hukou hebben recht op betaalbare huisvesting en onderwijs voor hun kinderen.

Uitspraak 2: versoepelen van het hukou-systeem leidt tot meer verstedelijking.

→ Neem de cijfers 1 en 2 van de uitspraken over op het antwoordblad en zet erachter of de uitspraak juist of onjuist is.

- 1p 41 Kledingfabrieken vestigden zich lange tijd aan de kust van China. Tegenwoordig zie je steeds meer kledingfabrieken in het binnenland. De kosten, bijvoorbeeld van de lonen en de grond, zijn in het binnenland namelijk veel lager dan aan de kust.
→ Geef nog een reden waarom de Chinese overheid wil dat meer kledingfabrieken van de kust naar het binnenland verhuizen.

bron 42

Shanghai in 1990 en in 2014



- 1p 42 Bekijk bron 42.
Tussen 1990 en 2014 is de bevolking van Shanghai flink toegenomen. Hierover worden twee uitspraken gedaan.
Uitspraak 1: tussen 1990 en 2014 nam de bevolking van Shanghai vooral toe door natuurlijke bevolkingsgroei.
Uitspraak 2: Shanghai heeft zijn snelle groei onder andere te danken aan de ligging aan de monding van de Chang Jiang.
→ Neem de cijfers 1 en 2 van de uitspraken over op het antwoordblad en zet erachter of de uitspraak juist of onjuist is.

bron 43

Luchtvervuiling in Beijing



- 1p 43 Bekijk bron 43.
Veel grote steden in China hebben regelmatig te maken met overlast door smog.
→ Noem een maatregel die de Chinese overheid de industrie kan opleggen om overlast door smog te verminderen.

bron 44

De Chinese deelfiets

Voor weinig geld een fiets huren waar je wilt met alleen een app. De fietsen zijn te gebruiken voor ongeveer 60 eurocent per keer. Er zijn geen stallingen waar de fiets verplicht teruggeplaatst moet worden. Gebruikers kunnen de fiets neerzetten waar ze willen.



- 1p 44 Lees bron 44.
Sinds 2016 kun je in de Chinese metropool Shanghai overal komen met een deelfiets. De overheid heeft heel bewust gekozen voor dit milieuvriendelijke plan.
→ Geef aan op welke manier het gebruik van deelfietsen bijdraagt aan een schonere lucht in Chinese metropolen, zoals Shanghai.

Bronvermelding

Een opsomming van de in dit examen gebruikte bronnen, zoals teksten en afbeeldingen, is te vinden in het bij dit examen behorende correctievoorschrift, dat na afloop van het examen wordt gepubliceerd.